

Всероссийская олимпиада школьников 2024–2025 учебный год

Школьный этап. ИСТОРИЯ

5 класс

Время выполнения заданий 45 минут

**Задание 1. Найдите лишнее слово (понятие) в каждом приведенном ряду и объясните свой выбор:**

а) гарпун, мотыга, копье \_\_\_\_\_

б) вкладыш, скребок, дубина \_\_\_\_\_


в) земледелие, племя, ремесло \_\_\_\_\_

**Задание 2. Верны ли следующие утверждения? (Да/Нет). Ответы внесите в таблицу.**

- 1) Человек выделился из мира животных 3–2,5 млн. лет назад.
- 2) В Египте не хватало выращенного зерна и его приходилось привозить.
- 3) Большая часть земель в Египте плодородна и часто орошается дождем.
- 4) Главным отличием древнейших людей от животных было умение изготавливать орудия труда.
- 5) Племя – это объединение родовых общин, живущих в одной местности.

1	2	3	4	5

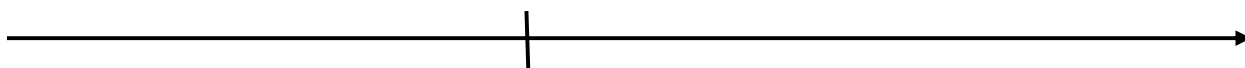
**Задание 3. Определите, какое понятия объединяет ряд иллюстраций.**



**Ответ:** \_\_\_\_\_

**Задание 4. Реши хронологические задачи:**

- 1) Сколько лет прошло от установления республики в Риме (509 г. до н.э.) до Марафонской битвы (490 г. до н.э.)? Прибавь к получившемуся числу XXIV. Ответ запиши римской цифрой.



\_\_\_\_\_

\_\_\_\_\_

2) В 2024 году были найдены останки двух захоронений, которые пролежали в земле 765 первое и 820 лет второе. Какое из них было сделано раньше и на сколько? Приведите свои вычисления.



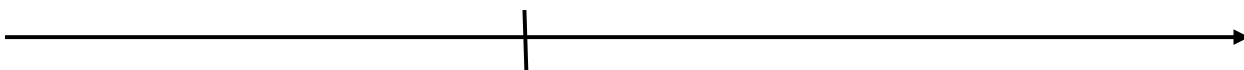
A horizontal timeline with an arrow pointing to the right. A vertical tick mark is positioned at the center of the line.

---



---

3) В 75 году до н.э. был поставлен камень с высеченными на нем законами. Три года назад его перевезли в музей. Сколько лет столб простоял у дороги? Приведите свои вычисления.



A horizontal timeline with an arrow pointing to the right. A vertical tick mark is positioned at the center of the line.

---



---

**Задание 5. Заполните пропуски в отрывке о древностях Самарского края, поставив номера слов, приведенных ниже (слова даны в именительном падеже) в таблицу в соответствии с буквенным обозначением пропуска. Обратите внимание, что слов больше, чем пропусков в тексте.**

История населения нынешнего Самарского Поволжья уходит в глубь веков. Природные богатства этой территории издавна привлекали человека. Он появился в Среднем Поволжье в эпоху **(А)** не менее 100 тыс. лет тому назад. Следов **(Б)** на территории современной Самарской области археологи не обнаружили, однако в разных районах края обнаружены кости вымерших животных ледникового периода: **(В)**, шерстистых носорогов, бизонов, диких лошадей, пещерных **(Г)**.

На территории области известно около двух тысяч археологических памятников различных эпох. Самые древние поселения, относящиеся к каменному веку, называются **(Д)**. Они обычно располагаются на берегу рек и озер. Поселения бронзового века называют селищами, что указывает на появление производящих отраслей хозяйства: **(Е)** и скотоводства.

Один из самых древних археологических памятников нашего края расположен в г. Самаре на высоком берегу Волги, в **(Ж)**. Стоянка относится к эпохе позднего палеолита, **(З)** века, это – единственный в области памятник столь отдаленной эпохи.

А	Б	В	Г	Д	Е	Ж	З

- 1) Палеолит
- 2) Ледник
- 3) Ремесло
- 4) Засуха
- 5) Олени
- 6) Земледелие
- 7) Мамонты

- 8) Городища
- 9) Медведи
- 10) Бронзовый
- 11) Хлебная площадь
- 12) Стоянки
- 13) Постников овраг
- 14) Древнекаменный

**Задание 6. Решите логические задачи.**

1) С большой роскошью похоронили египетского фараона Тутанхамона, жившего 33 столетия назад. Ему было всего 18 лет, когда он умер; в период своего недолгого правления ничего примечательного он не совершил, однако был весь с головы до ног усыпан драгоценными камнями и золотом. Были и вещи из железа. Всего три: железный кинжал, застежка золотого браслета и железная подставка для головы мумии. Почему железных изделий было мало?

---

---

---

2) Только фараон и его близкое окружение носили сандалии. Даже жена фараона ходила босой. Обувь делали из коры или волокон пальмы, сандалии украшали, а на подошвах изображали врагов. Для чего египтяне это делали?

---

---

---