

ВСЕРОССИЙСКАЯ ОЛИМПИАДА ШКОЛЬНИКОВ 2024–2025 уч. г.
ШКОЛЬНЫЙ ЭТАП. ОБЗР
10-11 класс

Тестовые задания

В заданиях 1-10 выберите один правильный ответ из предложенных и внесите в таблицу. В заданиях 11-16 выберите несколько верных ответов из предложенных и внесите в таблицу.

1. Граждане вправе подать заявления о замене военной службы по призыву альтернативной гражданской службой в военный комиссариат, где они состоят на воинском учете, в следующие сроки:

- а) до 1 июля – граждане, которые должны быть призваны на военную службу в октябре-декабре текущего года
- б) до 1 января – граждане, которые должны быть призваны на военную службу в апреле-июне следующего года
- в) до 1 мая – граждане, которые должны быть призваны на военную службу во втором полугодии
- г) до 1 апреля – граждане, которые должны быть призваны на военную службу в октябре-декабре текущего года

2. Боевое отравляющее вещество Иприт относится к отравляющим веществам

- а) кожно-нарывного действия
- б) удушающего действия
- в) нервнопаралитического действия
- г) раздражающего действия

3. Какое из нижеперечисленных ранений может привести к воздушной эмболии (попаданию воздуха в просвет сосуда)?

- а) ранение бедренной артерии
- б) ранение плечевой артерии
- в) ранение вен предплечья
- г) ранение вен шеи
- д) ранение вен кисти

4. Какой сигнал системы оповещения и экстренной информации населению означает завывание sireны и мощных акустических систем длительностью до 3-х минут?

- а) Внимание Всем!
- б) Воздушная тревога
- в) Химическая опасность
- г) Радиационная опасность

5. Какой уровень общественного взаимодействия играет основную роль в обеспечении безопасности?

- а) индивидуальный уровень (роль личности)
- б) групповой уровень (роль группы – например, коллектив студенческой группы, участники похода, профессиональные группы, добровольческие команды и т.п.)
- в) общественно-государственный уровень (роль государства – органы государственной власти, крупные общественные объединения и т.п.)
- г) планетарный уровень (роль объединенных усилий разных государств)
- д) все уровни играют одинаково важную роль

6. Определите тип оружия:

Калибр 7,62, разработано в 1958-1963 годах советскими конструкторами. Является самозарядным оружием, автоматика основана на использовании энергии пороховых газов, отводимых к газовому поршню из канала ствола.

- а) снайперская винтовка Драгунова
- б) снайперская винтовка Дергунова
- в) автомат Калашникова
- г) Автомат М-16

7. Определите длину строевого шага и высоту подъема ноги

- а) 60-70 см; 20-25 см
- б) 70-80 см; 15-20 см
- в) 70-80 см; 20-25 см
- г) 60-70 см; 15-20 см



8. Назовите часть противогаза, в которой происходит очистка воздуха.

- а) очковый узел
- б) клапан вдоха
- в) обтюратор
- г) коробка фильтрующе-поглощающая
- д) клапанная коробка

9. Общевоинскими уставами не руководствуются:

- а) военнослужащие Вооруженных сил РФ
- б) лица гражданского персонала, заменяющие воинские должности
- в) граждане, пребывающие в запасе

10. Какие из названных ручных гранат мгновенно взрываются при ударе о любое препятствие?

- а) осколочные наступательные
- б) осколочные оборонительные
- в) фугасные
- г) кумулятивные
- д) нажимного действия

11. Информационная манипуляция часто встречается в Сети – её приемами пользуются блогеры, маркетологи, администраторы сообществ и т.д. для изменения мнения аудитории по важным вопросам или для давления с целью принятия нужных манипулятору решений. По каким признакам возможно распознать приемы манипуляции?

- а) создание иллюзии единства – стремление подчеркнуть «уникальность» пользователей услуги, подписчиков, участников сообщества
- б) создание иллюзии причастности к секретам, тайнам и эксклюзивной информации – стремление подчеркнуть ценность положения подписчиков и пользователей, их близость к уникальным знаниям
- в) использование блогером или другим публичным лицом рекламных интеграций

12. На каком расстоянии от зданий и на каком участке необходимо выбирать место для строительства укрытий простейшего типа (щелей)?

- а) на расстоянии не менее, чем 100 м от жилых построек
- б) на расстоянии в непосредственной близости от жилых построек
- в) на таком расстоянии от зданий, которое превышает их высоту
- г) на участках, не затапливаемых талыми и дождевыми водами
- д) на землях с песчаным грунтом
- е) преимущественно в оврагах и в лощинах

13. Укажите, какие из перечисленных правил необходимо соблюдать при вынужденной самоэвакуации во время внезапного наводнения.

- а) плыть по течению в сторону, где имеются возвышенности
- б) эвакуироваться в ближайшее безопасное место
- в) эвакуироваться тогда, когда уровень воды станет резко подниматься
- г) эвакуироваться только тогда, когда уровень воды достиг отметки вашего пребывания
- д) самоэвакуацию проводить только в случае реальной угрозы вашей жизни

14. Действия спасающего в первые секунды после извлечения, утонувшего из воды:

- а) определить пульс на сонной артерии;
- б) повернуть на живот
- в) перекинуть пострадавшего через бедро;
- г) очистить полость рта
- д) резко надавить на корень языка;
- е) уложить на спину

15. По каким признакам можно определить, что сайт, который вы просматриваете в Сети, является фишинговым – созданной злоумышленниками страницей, имитирующей официальный сайт компании, бренда, магазина или публичного лица?

- а) на странице сайта встречаются орфографические или грамматические ошибки
- б) интернет-адрес сайта содержит опечатки, искажения или дополнительные символы в сравнении с интернет-адресом официального сайта компании, бренда, магазина и т.д.
- в) у страницы или сайта есть подписчики
- г) на сайте отсутствует контактная информация и способы обратной связи

16. Какие из представленных ниже правил наложения бинтовых повязок являются верными?

- а) начинать и заканчивать повязку необходимо над раной
- б) начинать повязку необходимо с закрепляющих туров бинта (2-3 тура на одном месте)
- в) каждый последующий тур бинта перекрывает предыдущий на половину или две трети ширины бинта
- г) каждый последующий тур бинта перекрывает предыдущий на одну треть ширины бинта
- д) бинтование всегда производят против хода часовой стрелки






Таблица ответов на тестовые задания теоретического тура

Номер тестового задания	Ответ	Номер тестового задания	Ответ
1		11	
2		12	
3		13	
4		14	
5		15	
6		16	
7			
8			
9			
10			

Теоретические задания

Задание 1

1. Предписывающие знаки безопасности предназначены для разрешения определенных действий работающих только при выполнении конкретных требований безопасности труда. Впишите в таблицу смысловые значения предписывающих знаков и дополните текст в колонке «Место установки знаков» недостающими фрагментами (словами или словосочетаниями).

смысловое значение	изображение	место установки знаков
		На участках работ, связанных с опасностью _____ _____
		При входе в рабочие помещения или на участки работ, связанных с опасностью _____ _____
		При входе в рабочие помещения или на участки работ с _____ _____
		При входе на участки работ, связанных с опасностью _____ _____
		В местах выполнения работ на _____

Задание 2

Во время отдыха люди часто посещают аквапарки и другие водные аттракционы. Для посетителей аквапарка доступ на водные аттракционы – свободный с учетом ряда ограничений, вызванных соображениями безопасности. Дополните формулировки приведённых ниже пунктов ограничений.

1. Доступ на конкретный аттракцион может быть ограничен по _____, а также по _____ пользователя (посетителя).
2. На аттракцион не допускаются лица, имеющие явные признаки _____, лица с _____ поведением, а также лица с посторонними предметами.
3. Ограничением для пользования аттракционами, расположенными в аквапарке на открытом воздухе, служат _____
4. Доступ в волновой и развлекательно-игровой бассейны должен быть ограничен в случае чрезмерного скопления _____, находящихся в бассейнах.
5. Доступ детей до 8 лет на аттракционы, в составе которых имеются глубоководные зоны (например, волновой бассейн), возможен лишь при наличии на ребенке _____.
6. Доступ на водный аттракцион должен быть прекращен в случае его _____ или при возникновении ситуации, нарушающей нормальный _____.

Задание 3

Инфекционные болезни. Заполните таблицу. Впишите в пропущенные графы таблицы соответствующую информацию.

<i>№</i>	<i>Локализация возбудителя</i>	<i>Механизм передачи инфекции</i>	<i>Пути передачи инфекции</i>
1	Желудочно-кишечный тракт	фекально-оральный (желудочно-кишечный)	
2	Дыхательная система		капельный, пылевой
3		трансмиссивный	укусы кровососущих насекомых
4	Кожа и слизистые оболочки		прямой, не прямой

Задание 4

Заполните таблицу

<i>Воинское звание</i>	<i>Соответствие звания на флоте</i>
Сержант	
Ефрейтор	
Прапорщик	
Лейтенант	
Майор	